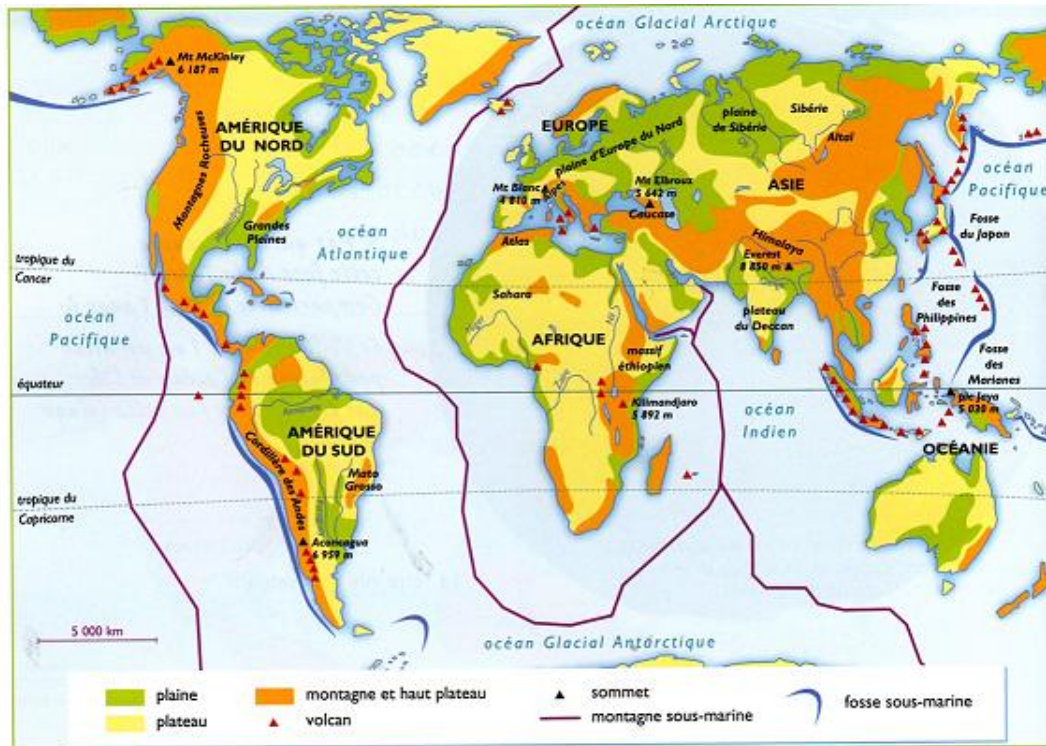


1. Observe les documents 1, 2 et 3. Réponds aux questions par oral.



Doc. 1 : Le relief des continents et des océans.

➔ Document 1

- ① Cherche sur chaque continent le nom des principales montagnes.
- ② Quel est le point le plus haut de la Terre ? Où se situe-t-il ?
- ③ Donne le nom de deux grandes plaines et situe-les.


- ④ Indique les noms de deux grands plateaux.
- ⑤ Quels reliefs trouve-t-on dans les océans ?
- ⑥ Dans quel océan la plupart des fosses marines se trouvent-elles ?

➔ Documents 2 et 3



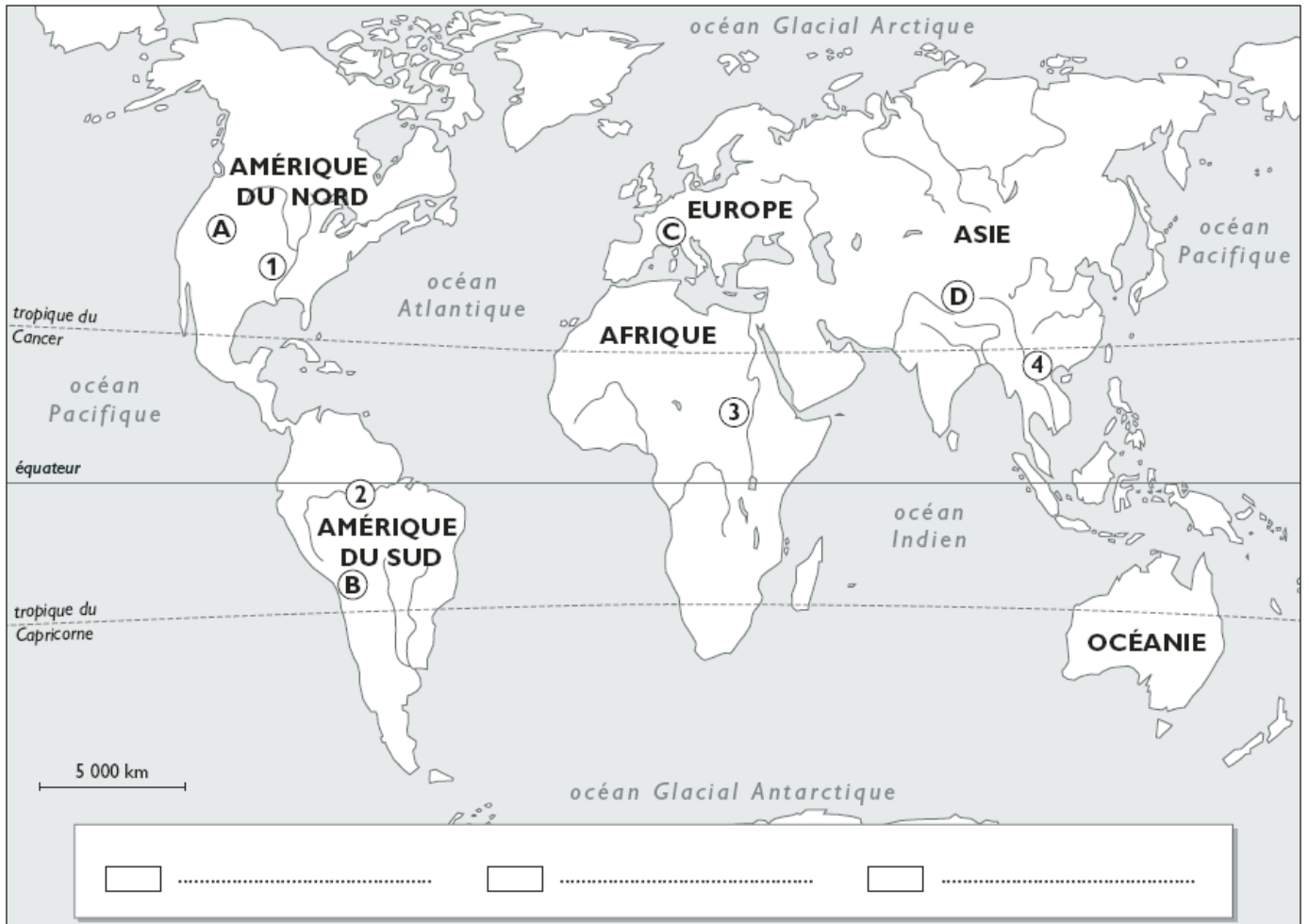
Doc. 2 : Le sommet de l'Everest (Himalaya, Népal).
Des alpinistes ont installé leur camp de base avant de tenter l'ascension de l'Everest.

- ① Situe ce paysage sur le planisphère du relief de la Terre.
- ② Quels types de relief observes-tu ?



Doc. 3 : La plaine de l'Amazone (Brésil).
L'étendue d'eau que l'on aperçoit à l'horizon est une partie du delta du fleuve Amazone.

1. Observe les documents 1, 2 et 3. Réponds aux questions par écrit.



① Colorie sur la carte les grands ensembles de relief.

② Complète la légende de la carte.

③ Écris à quelle chaîne de montagne correspond chacune de ces lettres sur la carte.

A : B :

C : D :

④ Indique les noms de deux grands plateaux.

1 : 2 :

3 : 4 :